

## सेतू अभ्यास : इयत्ता आठवी : सामाजिक शास्त्रे : पूर्व चाचणी

इयत्ता : आठवी

एकूण गुण : ३०

विद्यार्थ्यांचे नाव : ..... हजेरी क्र. : .....

शाळेचे नाव : ..... दिनांक : .....

प्र. १ अ) परस्पर संबंध लिहा. (07.73H.10) (२ गुण)

१) महात्मा बसवेश्वर : कर्नाटक, संत मीराबाई : .....

२) रामानंद : उत्तर भारत, चैतन्य महाप्रभू : .....

प्र. १ ब) खालील चौकोनात दडलेल्या कोणत्याही चार ऐतिहासिक साधनांची नावे शोधून लिहा. (२ गुण)

दं	म	चि	पु	त	ळे	ग्व
य	ब	त्रे	ळ	भ	कि	प
ता	क्ष	ख	य	ल	वं	ल्ला
म्र	ग	स्मा	र	के	शा	प्र
प	शि	ल्प	त्व	भां	व	ते
ट	र	व	क	डी	ळी	ला
व	स्तू	श	प	म	ना	णी

१) .....

२) .....

३) .....

४) .....

प्र. २ अ) जोड्या जुळवा. (07.73H.06)

(२ गुण)

'अ' गट (घराणी)		'ब' गट (ठिकाण)
१) पाल	.....	अ) तामिळनाडू
२) राजपूत	.....	ब) कर्नाटक
३) चोळ	.....	क) उत्तर भारत
४) होयसळ	.....	ड) बंगाल

प्र. २ ब) संकल्पना स्पष्ट करा. (कोणतेही एक) (07.73H.05) (४ गुण)

१) पानिपतची लढाई २) अटकेवर मराठ्यांचा ध्वज फडकला

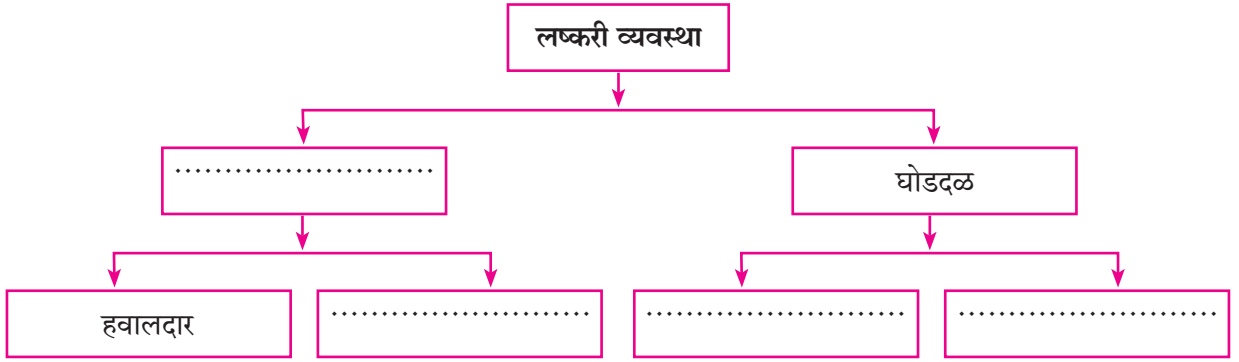
.....  
.....

प्र. ३ अ) खालील घटना कालानुक्रमे लिहा. (07.73H.03) (२ गुण)

१) शिवाजी महाराजांची दक्षिण मोहीम २) लाल महालावर छापा  
३) आगऱ्याहून सूटका ४) राज्याभिषेक  
५) पुरंदरचा तह ६) शायिस्ताखानाची स्वारी

.....  
.....

प्र. ३ ब) ओघतक्ता पूर्ण करा. (07.73H.07) (२ गुण)



प्र. ४ अ) संकल्पना स्पष्ट करा. (कोणतीही एक) (२ गुण)

१) सार्वभौम राज्य (07.73H.17), २) संविधान दिन (07.73H.18)

.....  
.....  
.....  
.....

ब) प्रश्नाचे उत्तरे लिहा. (कोणतेही एक) (07.73H.16) (१ गुण)

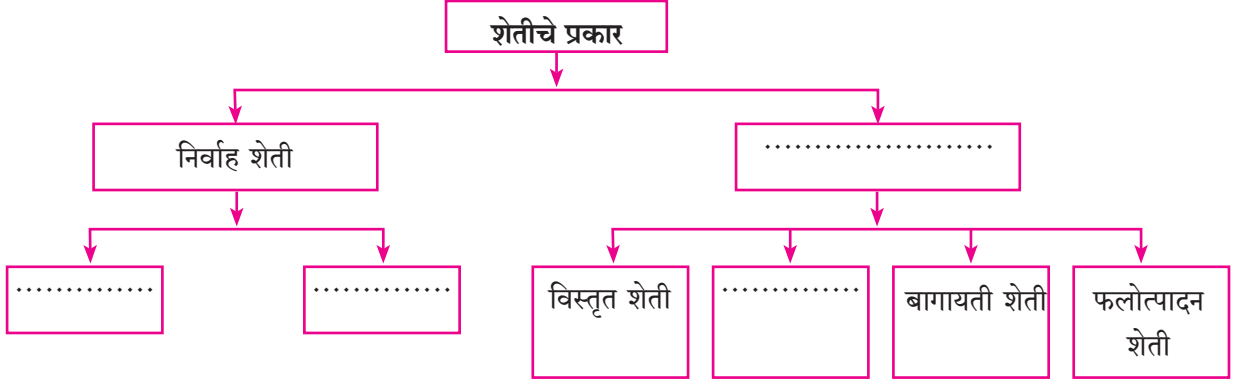
१) निवडणूक घेणारी यंत्रणा .....  
२) न्यायाधीशांची नेमणूक कोण करते? .....

प्र. ५ अ) गाळलेल्या जागी कंसातील योग्य पर्याय लिहा. (२ गुण)

१) हवा उंच गेल्यावर ..... होते. (दाट, विरळ उंच) (07.73G.07)

२) ..... मृदा कापसाची मृदा या नावाने देखील ओळखली जाते.  
(जाडीभरडी, काळी मृदा, जांभळी) (07.73G.07)

ब) खालील ओघतक्ता पूर्ण करा. (07.73G.14) (२ गुण)



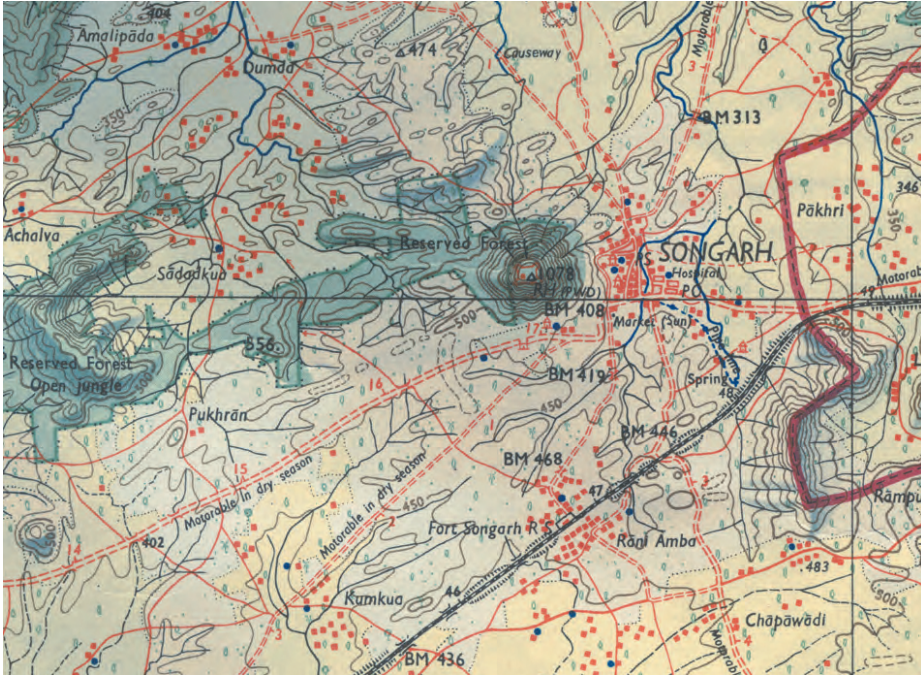
प्र. ६ अ) भौगोलिक करणे लिहा. (कोणतेही दोन) (४ गुण)

१) भरती ओहोटीवर सूर्यपेक्षा चंद्राचा जास्त परिणाम होतो. (07.73G.12)

२) पशुपालन व्यवसाय शेतीला पूरक ठरतो. (07.73G.14)

३) ध्रुवीय भागात दोन्ही गोलार्धात हवेचा दाब जास्त का असतो? (07.73G.07)

ब) खालील नकाशाचे निरीक्षण करा व त्यासाठी योग्य सूची तयार करा. (07.73G.06) (४ गुण)



प्र. ७) खालील नकाशातील भूरूपे ओळख. (कोणतेही तीन) (07.73H.22)

(३ गुण)

