

## सेतू अभ्यास : इयत्ता दहावी : सामाजिक शास्त्रे : पूर्व चाचणी

इयत्ता : दहावी

एकूण गुण : ३०

विद्यार्थ्यांचे नाव : .....

हजेरी क्र. : .....

शाळेचे नाव : .....

दिनांक : .....

प्र. १) अ) गटात न बसणारा शब्द ओळखा.

(२ गुण)

१) राजमुद्रा, चित्रपट, किल्ला, पेहराव : .....

२) ग्रंथ, वृत्तपत्रे, अलंकार, रोजनिशी : .....

ब) BRICS या संघटनेमध्ये कोणकोणत्या देशांचा समावेश आहे? त्या देशांची नावे लिहा. (२ गुण)

१) ..... २) .....

३) ..... ४) .....

५) .....

प्र. २) अ) ईशान्य भारतात असलेल्या कोणत्याही चार राज्यांची नावे लिहा.

(२ गुण)

१) ..... २) .....

३) ..... ४) .....

ब) खालील शब्दांचे पूर्ण रूप लिहा.

(२ गुण)

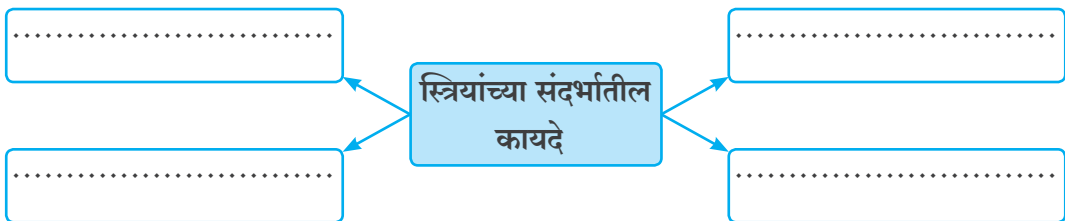
१) IIT : .....

२) SCERT : .....

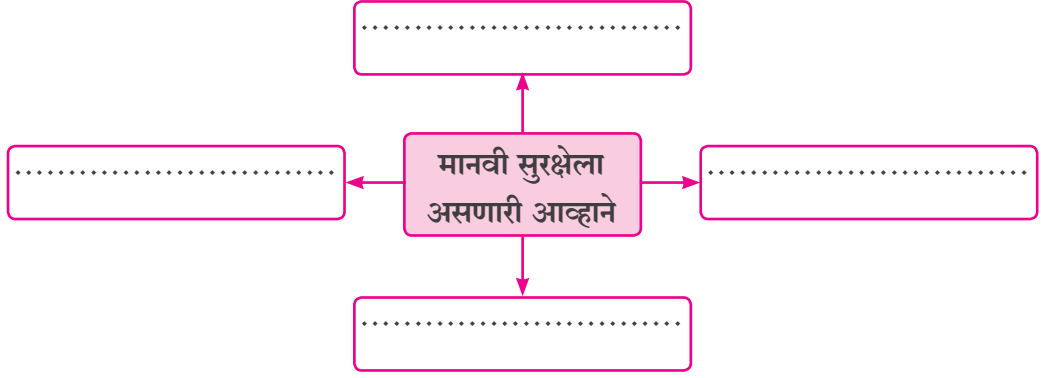
प्र. ३) अ) खालील संकल्पना चित्र पूर्ण करा. (कोणतेही २)

(४ गुण)

१)



२)

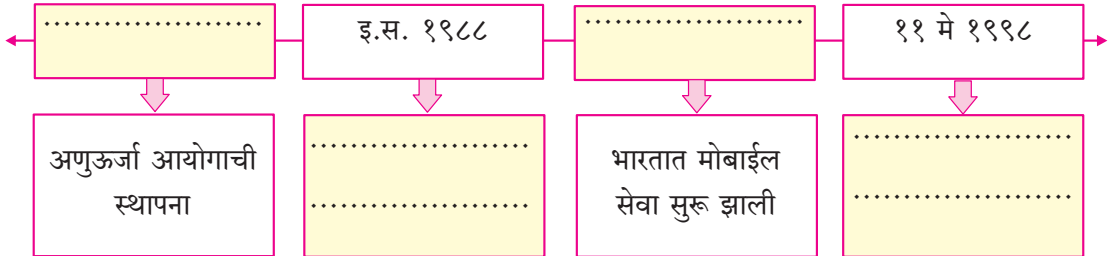


३)

शीतयुद्धाचे परिणाम
.....
.....
.....
.....

ब) कालरेषा पूर्ण करा.

(३ गुण)



प्र. ४) खाली दिलेल्या पर्यायापैकी योग्य पर्याय निवड.

(५ गुण)

१) भारताच्या मध्य भागातून ..... वृत्त जाते.

अ) मकर

ब) विषुव

क) कर्क

ड) ध्रुव

२) खालीलपैकी ..... हा वली पर्वत आहे.

अ) सातपुडा

ब) हिमालय

क) पश्चिम घाट

ड) निलगिरी

३) आवर्त पर्जन्य ..... कटिबंधात जास्त प्रमाणात पडतो.

अ) उष्ण                      ब) शीत                      क) समशीतोष्ण                      ड) वरीलपैकी नाही

४) महाराष्ट्र व गुजरात या दोन राज्यात होणाऱ्या व्यापारास ..... व्यापार असे म्हणतात.

अ) आंतरराष्ट्रीय      ब) अंतर्गत                      क) किरकोळ                      ड) घाऊक

५) वाहतुकीचा ..... हा सर्वात स्वस्त वाहतूक मार्ग आहे.

अ) भूवाहतूक      ब) हवाई वाहतूक      क) जलवाहतूक      ड) नळवाहतूक

प्र. ५) खालील विधाने चूक की बरोबर ते लिहा.

(५ गुण)

१) ग्रामीण भागापेक्षा नागरी भागात प्रदुषणाचे प्रमाण कमी असते. (.....)

२) रो-रो वाहतुकीसाठी हवाई मार्गाची आवश्यकता नसते. (.....)

३) तापमान दाखविण्यासाठी समघनी नकाशे वापरतात. (.....)

४) पर्जन्यछायेच्या प्रदेशात पर्जन्याचे प्रमाण अति जास्त असते. (.....)

५) भाजीपाला विक्री हा अदृश्य व्यापार आहे. (.....)

प्र. ६) जगाच्या नकाशा आराखड्यात खालील घटक दाखवा.

(५ गुण)

१) मकरवृत्त

२) आफ्रिका खंड

३) भारत

४) आशिया खंड

५) दक्षिण अमेरिका

सूची :

अ. न.	घटक	चिन्ह
१)		
२)		
३)		
४)		
५)		