

सेतू अभ्यास : सामान्य विज्ञान – इयत्ता सहावी : पूर्व चाचणी

इयत्ता : सहावी

एकूण गुण : ३०

विद्यार्थ्यांचे नाव :

हजेरी क्र. :

शाळेचे नाव :

दिनांक :

सूचना : 1) सर्व प्रश्न सोडविणे आवश्यक आहे.

2) उजवीकडील कंसातील अंक गुण दर्शवितात.

प्र. 1) रिकाम्या जागी योग्य पर्याय निवडून लिहा. (05.95A.05)

(5 गुण)

- 1) पृथ्वीला पासून प्रकाश मिळतो. (चंद्र, सूर्य, तारे, ग्रह)
- 2) जमिनीचा सुमारे एवढा भाग पाण्याने व्यापला आहे. ($\frac{1}{3}$, $\frac{2}{3}$, $\frac{3}{3}$, $\frac{4}{3}$)
- 3) जीवनसत्त्वाच्या अभावामुळे रातांधळेपणा होतो. (ए, बी, सी, डी)
- 4) बहुमजली घर बांधताना मुख्यतः साहित्य वापरतात.
अ) वाळू/कोळसा/सिमेंट/विटा
ब) सिमेंट/विटा/लाकूड/लोखंड
क) लोखंड/सिमेंट/वाळू/विटा
ड) लोखंड/प्लॅस्टिक/वाळू/विटा
- 5) कांदा, लसूण, बटाटे, आले हे कंद म्हणजे त्या वनस्पतीचा भाग होय.
(मूळ, खोड, पान)

प्र. 2) खालील गटातील वेगळा शब्द ओळखून चौकट करावी. (05.95A.05)

(4 गुण)

- 1) नाकतोडा, बेडूक, साप, चिमणी
- 2) आंबा, पेरू, कांदा, आवळा
- 3) पापड, दूध, लोणचे, सांडगे
- 4) ताक, पाणी, चहा, साखर

प्र. 3) एका शब्दात उत्तरे लिहा. (05.95A.06)

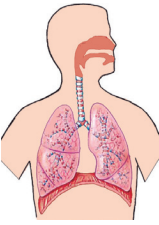
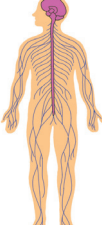
(4 गुण)

- 1) 'बर्फ' हे पदार्थाची कोणती अवस्था दर्शविते?
- 2) फ्ल्यूसारख्या रोगाचा प्रसार कोणत्या माध्यमाद्वारे होतो?
- 3) ऊर्जेचा सर्वात मोठा न संपणारा ऊर्जा स्रोत कोणता?
- 4) पचनक्रियेत खाल्लेल्या अन्नाचे पचन होण्यास मदत करणारा द्रव पदार्थ कोणता?

प्र. 4) पुढील इंद्रियसंस्थाचे नाव लिहून त्यातील महत्त्वाच्या अवयवांची नावे लिहा.



(05.95A.06)

(2 गुण)

	अ)		ब)

प्र. 5) खालील पदार्थातून कोणते अन्नघटक मिळतात ते लिहा. (05.95A.02)

(2 गुण)

	
अ)	ब)
.....
.....

प्र. 6) खालील चित्राचे निरीक्षण करून उत्तरे लिहा. (05.95A.08) (05.95A.10)


(3 गुण)

1) पाणी प्रदूषित करणाऱ्या कोणकोणत्या घटना चित्रात दिसत आहेत?

.....
.....
.....

2) पाणी प्रदूषण रोखण्यासाठी उपाय लिहा.

.....
.....
.....



3) पाणी प्रदूषण रोखण्यासाठी एक घोषवाक्य लिहा.

.....

.....

प्र. 7) खालील चित्रे ओळखून त्याखाली प्रदेशाचे नाव लिहा. (05.95A.13)

(2 गुण)



.....

.....

.....



.....

.....

प्र. 8) असे का घडले? (05.95A.06)

(4 गुण)

1) गावात काविळीची साथ पसरली.

.....

.....

.....

2) महाराष्ट्रात काही गावांना पिण्याच्या पाण्याच्या टंचाईचा सामना करावा लागतो.

.....

.....

.....

प्र. 9) तर काय होईल ते लिहा. (05.95A.09)

(4 गुण)

1) संदेशवहन साधनांची यंत्रणा बंद पडली.

.....
.....
.....

2) पृथ्वीवरील जंगले नष्ट झाली.

.....
.....
.....