

## सेतू अभ्यास : गणित – इयत्ता पाचवी : पूर्व चाचणी

इयत्ता : पाचवी

एकूण गुण :

२०

विद्यार्थ्यांचे नाव : .....

हजेरी क्र.: .....

शाळेचे नाव : .....

दिनांक : .....

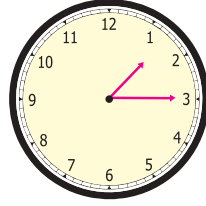
(सूचना : प्रत्येक प्रश्नासाठी 1 गुण आहे.)

प्र. 1) आंतरराष्ट्रीय संख्या चिन्हे वापरून संख्या लिही.

बासष्ट हजार तीनशे पंचावन्न :

प्र. 2) घड्याळात दिसणारी वेळ,  
तास व मिनिटांत लिही.

.....



प्र. 4) विस्तारित रूपावरून संख्या लिही.

$$4000 + 300 + 5 =$$

प्र. 3) काटकोनाला रिंगण कर.



प्र. 5) खालील उदाहरण सोडव.

$$2376 + 6789 =$$

प्र. 6) खालील उदाहरण उभी मांडणी करून सोडव.

$$5250 - 174$$

ह	श	द	ए
-			

प्र. 7) सोडव.

$$5 \overline{) 545}$$

प्र. 8) एका शाळेत परिपाठासाठी विद्यार्थ्यांच्या रांगा तयार केल्या. तेव्हा प्रत्येक रांगेत 15 विद्यार्थी अशा 13 ओळी तयार झाल्या, तर तिथे परिपाठासाठी एकूण किती विद्यार्थी उपस्थित होते?

प्र. 9) श्रद्धाने वाढदिवसानिमित्त 54 रंगीत खडू भेट म्हणून देण्यासाठी आणले. तिने आपल्या प्रत्येक मैत्रिणीला 3 रंगीत खडू वाटायचे ठरवले, तर ते रंगीत खडू किती मैत्रिणींना वाटता येतील?

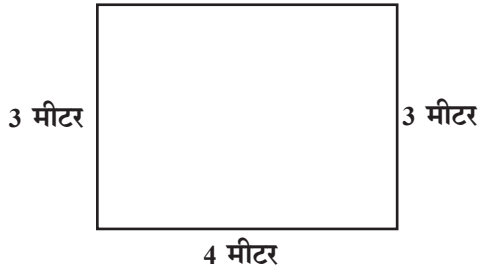
प्र.10) राघवरावांना 38,350 रुपयांची एक वस्तू घ्यायची आहे. त्यांच्याजवळ 27,605 रुपये आहेत, तर ती वस्तू घेण्यासाठी त्यांना आणखी किती रक्कम लागेल?

प्र.11) 2355 या संख्येत आणखी तीन दशक आणि चार शतक मिळविल्यास एकूण किती होईल?

प्र.12)

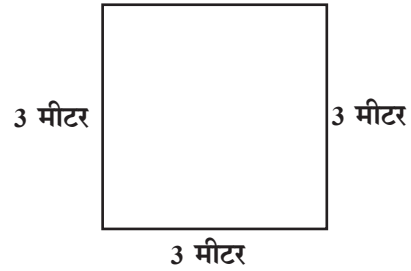
गौरवची धावपट्टी

4 मीटर



अनिलची धावपट्टी

3 मीटर



दोघांनी धावण्याची एक फेरी पूर्ण केली आहे, तर खालीलपैकी कोणते विधान चूक आहे? त्यावर रेघ मार.

अ) गौरव 14 मीटर धावला.

ब) अनिल 12 मीटर धावला.

क) अनिल दोन मीटर जास्त धावला.

ड) गौरव दोन मीटर जास्त धावला.

प्र.13) खाली दिलेली एकूण रक्कम किती? ते लिही.



प्र. 14 व 15) सारणीचे निरीक्षण करून उत्तरे लिही.


प्रमाण :  = 10 फुले

नाव	फुले
अंजली	
रुखसार	
वैभव	
अलिशा	

प्र.14) अंजली व अलिशा यांची फुले एकत्रित केल्यास एकूण किती फुले होतील?

प्र.15) अंजली व रुखसार यांची फुले एकत्र केल्यास ती संख्या वैभवकडील असणाऱ्या फुलांपेक्षा कितीने जास्त असेल?

प्र.16) खालील नक्षीचा आकृतिबंध पूर्ण कर.



प्र.17) राजवीरजवळ आंब्यांची 24 खोकी असून त्या प्रत्येकात 12 आंबे आहेत, तर त्याच्याजवळ एकूण किती आंबे आहेत? कृती पूर्ण करून उत्तर काढ.

×	20	4	<input type="text"/>
10			
2			

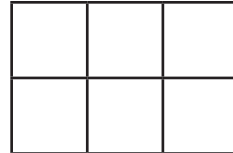
प्र.18) एक लीटर दुधाला 60 रुपये याप्रमाणे अडीच लीटर दुधाची किंमत किती?

प्र.19) दिलेला अपूर्णांक शब्दांत लिही.

$$9 \frac{1}{2}$$

.....

प्र.20) सर्व लहान चौरस हे 1 चौरस सेमीचे असल्यास पूर्ण आकृतीचे क्षेत्रफळ किती?



आकृतीचे क्षेत्रफळ =  चौसेमी